

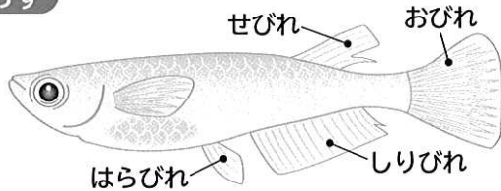
# 『メダカのたんじょう』自学プリント No.5

5月 日( ) 5年 組( )

## たしかめ小テスト

### 1 メダカのおすとめすについて調べます。

おす

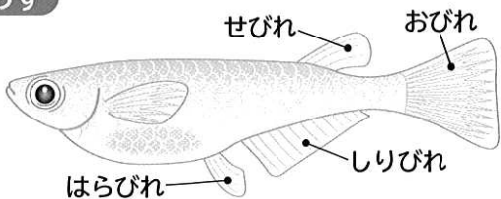


① おすとめすを見分けるには、どこを見とよいですか。2つ選んで○をつけなさい。

( ) せびれ ( ) はらびれ

( ) しりびれ ( ) おびれ

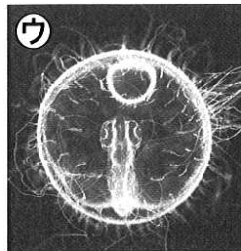
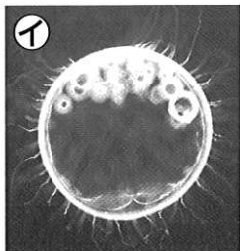
めす



② たまごを産むのは、おすとめすのどちらですか。 ( )

③ たまごと精子せいしが結びつくことを、何といいますか。 ( )

### 2 メダカのだまごのようすについて調べます。



① たまごが育つ順になるように、( )にアイウを書きなさい。

( ) → ( ) → ( )


② たまごの中で体がさかんに動くのは、アイウのどのころですか。 ( )

③ たまごの変化で、正しいほうに○をつけなさい。

( ) はじめからメダカのすがたで、だんだん大きくなる。

( ) たまごの中で、少しずつメダカのすがたになる。

### 3 たまごから子メダカがたんじょうしました。



① たまごからふ化した子メダカは、すぐにえさを食べますか。 ( )

② 左の写真のカカのふくらみには何が入っていますか。 ( )