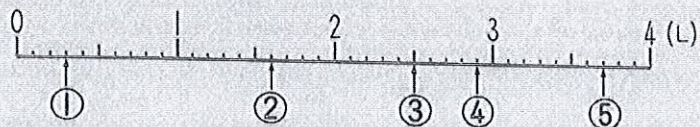


小数5

名前

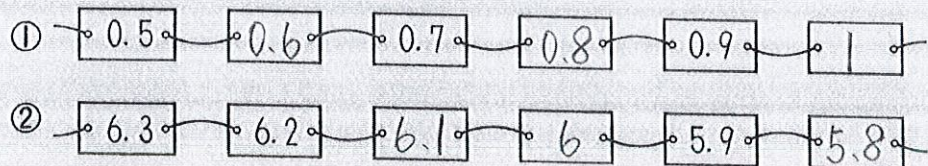


- ① 下の数直線で、1の①～⑤は、何Lを表していますか。
に小数で書きましょう。また、それは0.1Lの何こ分になりますか。()に書きましょう。



- ① L ② L ③ L
 (3)こ分 (16)こ分 (25)こ分
 ④ L ⑤ L
 (29)こ分 (37)こ分

- ② あいているところに数を書きましよう。



- ③ 次の () にあてはまる数を入れましよう。

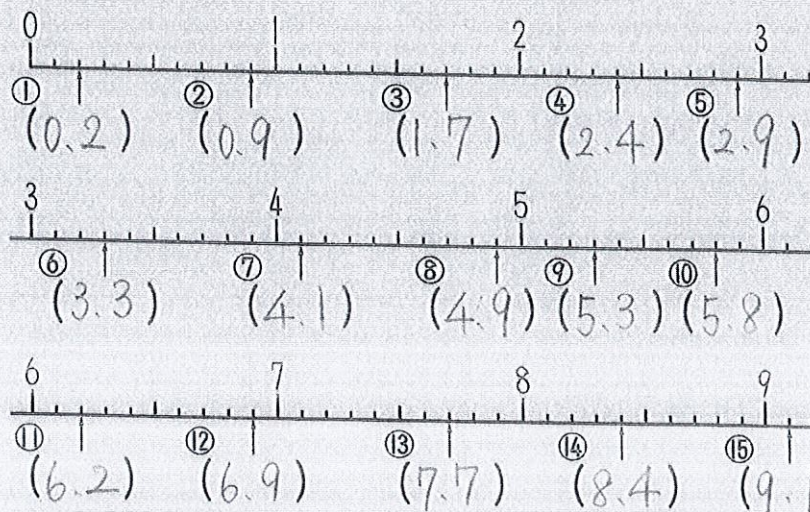
- ① 1.4は、0.1が(14)こあつまった数。
 ② 0.7は、0.1が(7)こあつまった数。
 ③ 3.9は、1が(3)こ、
 0.1が(9)こあつまった数。
 ④ 0.1が4こあつまった数は、(0.4)。
 ⑤ 0.1が18こあつまった数は、(1.8)。

小数6

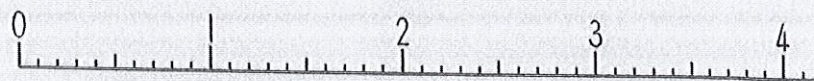
名前



- ① 下の数直線で、①～⑮の1の表している数を () に小数で書きましよう。



- ② 下の数直線を見て、①～⑧の2つの数の大きさをくらべ、
に不等号 (>, <) を書きましよう。



- ① 3.6 2.8 ② 3 0.3
 ③ 1.2 0.9 ④ 2.3 3.2
 ⑤ 0 0.1 ⑥ 4.1 1.4
 ⑦ 3 3.1 ⑧ 2 0.8